


DIAGNOS MLä1


Namn _____ Klass _____

Material: En linjal graderad i cm och mm.

1 Hur långa är pennorna? Svara i hela cm.

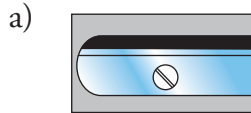


Svar: a är _____ cm lång.



Svar: b är _____ cm lång.

2 Hur långa är pennvässarna? Svara i mm.



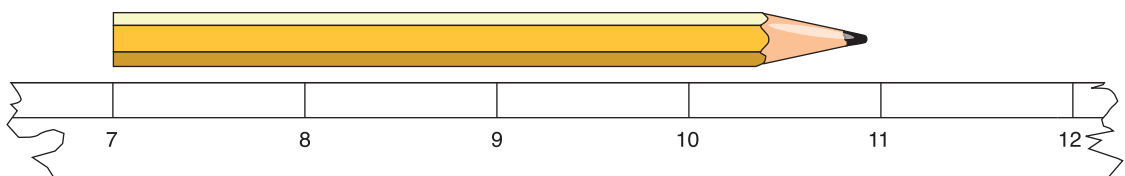
Svar: a är _____ mm lång.

Svar: b är _____ mm lång.

3 Förr i tiden använde man längdenheten 1 tum och mätte med tumstock.

En tum är så här lång: 

Din tumstock är trasig. Kan du ändå mäta hur lång pennan är, mätt i tum?



Svar: _____ tum.

DIAGNOS MLä1

- 4** Rita med din linjal en sträcka som är 6 cm lång.
- 5** Rita med din linjal en sträcka som är 32 mm lång.
- 6** Skriv rätt enhet efter talet. (mm, cm, dm, m eller km)
- a) Mias suddgummi är 3 _____ långt.
- b) Pappas sko är 3 _____ lång.
- c) En nyckelpiga är 6 _____ lång.
- d) Ett trevåningshus är 10 _____ högt.
- e) Avståndet mellan Göteborg och Stockholm är 500 _____.
- f) Ett rum kan vara 4 _____ brett.